

Ejercicios Resueltos: OVA 5

➤ Ejercicio 1

- I) Determinése los intervalos en los cuales cada una de las siguientes funciones es creciente y decreciente:

1) $y = x^4$.

Respuesta.

1°) Se deriva la función dada: $y' = 4x^3$.

2°) Se obtienen los Puntos Críticos (P.C): $y' = 0$; o sea:

$$4x^3 = 0 \Rightarrow x = 0$$

Por lo tanto:

$$P.C = \{0\}$$

3°) P.C en la recta numérica (para la derivada):

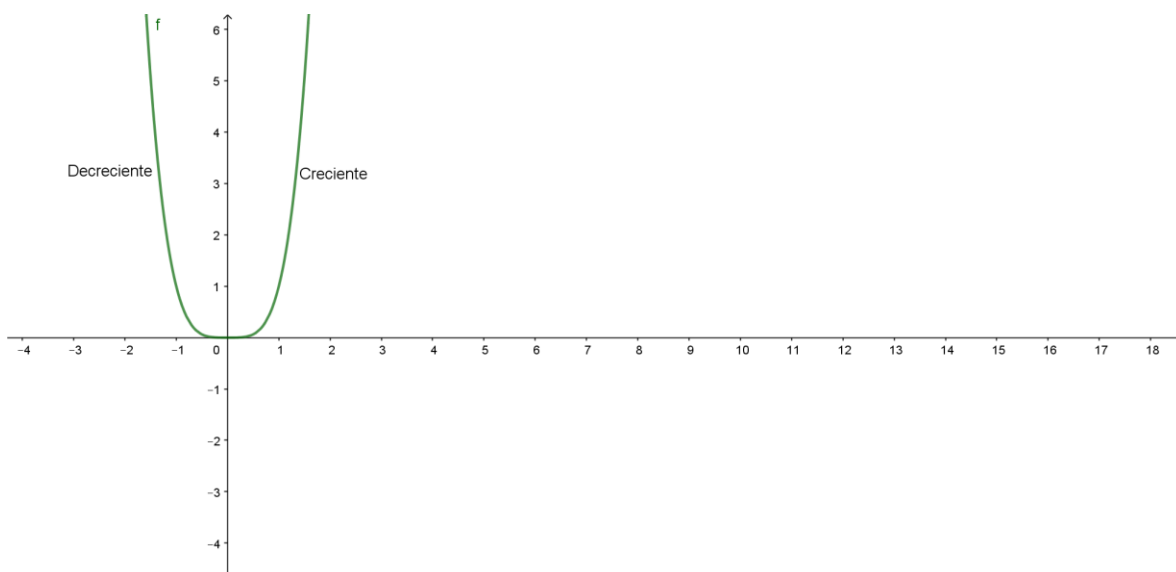
$-\infty$	-1	0	1	$+\infty$
$y' = 4x^3$	Negativa		Positiva	
	DECRECIANTE		CRECIANTE	

Por lo tanto:

La función $y = x^4$:

Decreciente: $]-\infty, 0]$; *Creciente:* $[0, +\infty[$

Verifiquemos lo que ha resultado al graficar la función usando Geogebra:



2) $f(x) = -\frac{x^3}{3} + \frac{5}{2}x^2 - 6x + 1$

Respuesta.

1º) Puntos Críticos.

$$f'(x) = -x^2 + 5x - 6 = 0 \Rightarrow \begin{cases} x = 2 \\ \vee \\ x = 3 \end{cases}$$

Por lo tanto:

$$P.C = \{2, 3\}$$

2º) Recta Numérica

$-\infty$	0	2	2.5	3	4	$+\infty$
$f'(x) = -x^2 + 5x - 6$ Negativa			Positiva		Negativa	

Por lo tanto:

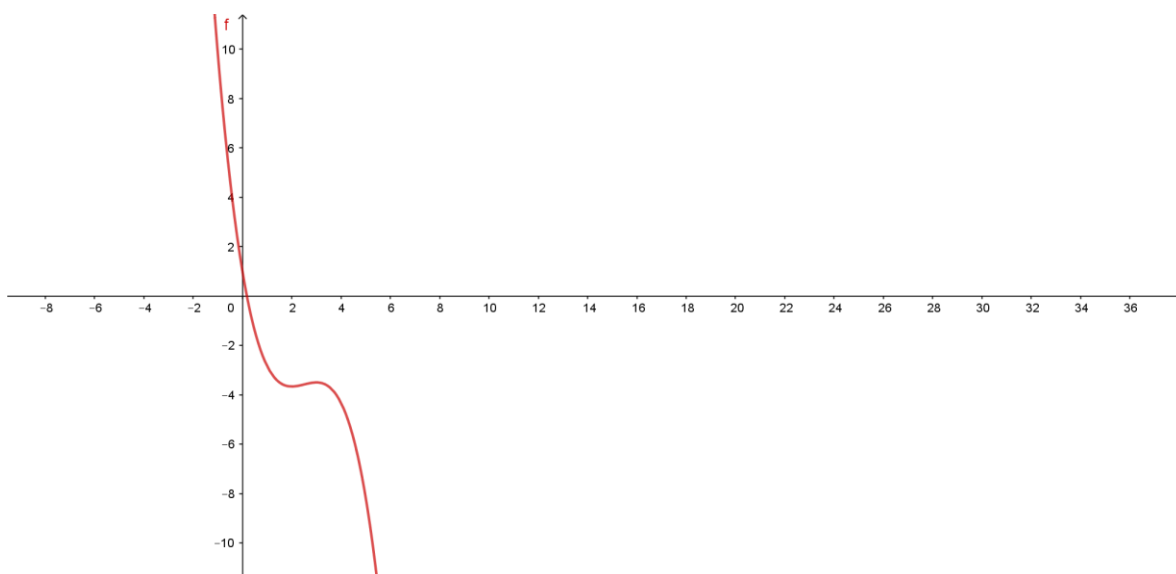
La función $f(x) = -\frac{x^3}{3} + \frac{5}{2}x^2 - 6x + 1$ es:

Decreciente $]-\infty, 2] \cup [3, +\infty[$

Creciente $[2, 3]$

Gráficamente:





3) $f(x) = \frac{2x^2 + 9}{x^2 - 9}$.

Respuesta.

1º) P.C:

$$f'(x) = \frac{-54x}{(x^2 - 9)^2} = 0$$

Por lo tanto:

$$P.C = \{-3, 0, 3\}$$

$-\infty$	-4	-3	-1	0	1	3	4	$+\infty$
$f'(x) = \frac{-54x}{(x^2 - 9)^2}$ Positiva			Positiva		Negativa		Negativa	

Por lo tanto:

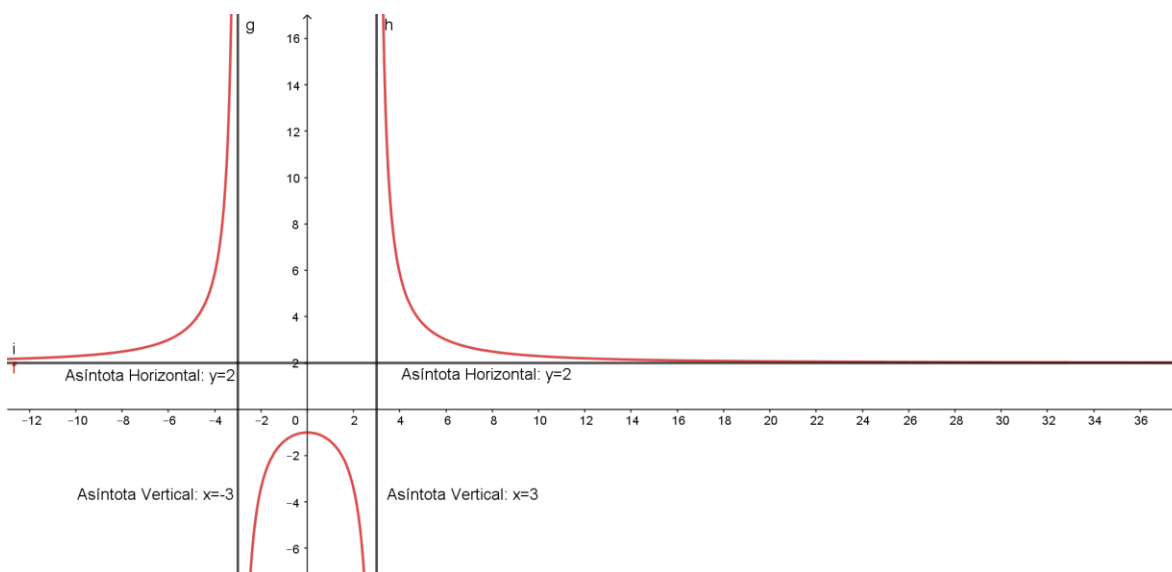
$$f(x) = \frac{2x^2 + 9}{x^2 - 9} \text{ es:}$$

Creciente $]-\infty, -3[\cup]-3, 0[$;

Decreciente $[0, 3[\cup]3, +\infty[$

Gráfica:





Ejercicio 2

II) En las siguientes funciones determínese máximos y mínimos locales, aplicando el Criterio de la Primera Derivada:

1) $f(x) = -\frac{x^3}{3} + \frac{x^2}{2} + 6x$

1º) P.C.

$$f'(x) = -x^2 + x + 6 = 0 \Rightarrow \begin{cases} x = -2 \\ \vee \\ x = 3 \end{cases}$$

Por lo tanto:

$$P.C = \{-2, 3\}$$

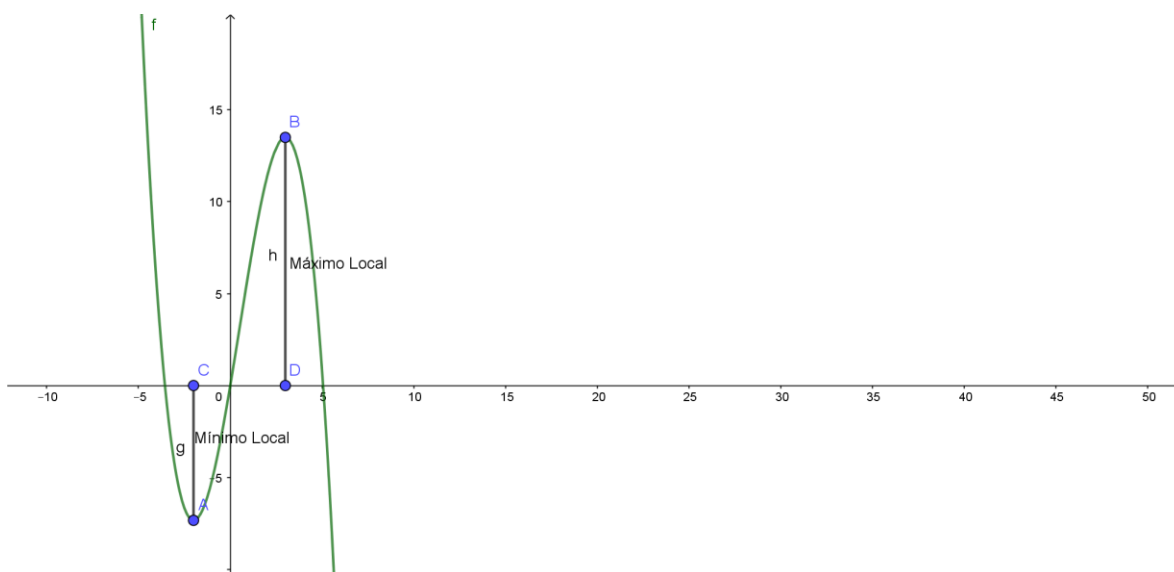
2º) Recta Numérica:

$-\infty$	-3	-2	0	3	4	$+\infty$
$f'(x) = -x^2 + x + 6$		Negativa		Positiva		Negativa

de donde: $f(-2) = -\frac{26}{3}$ es un mínimo local y $f(3) = \frac{27}{2}$ es un máximo local

Gráfica:





2) $f(x) = \frac{x-1}{x^2-4}$.

Respuesta.

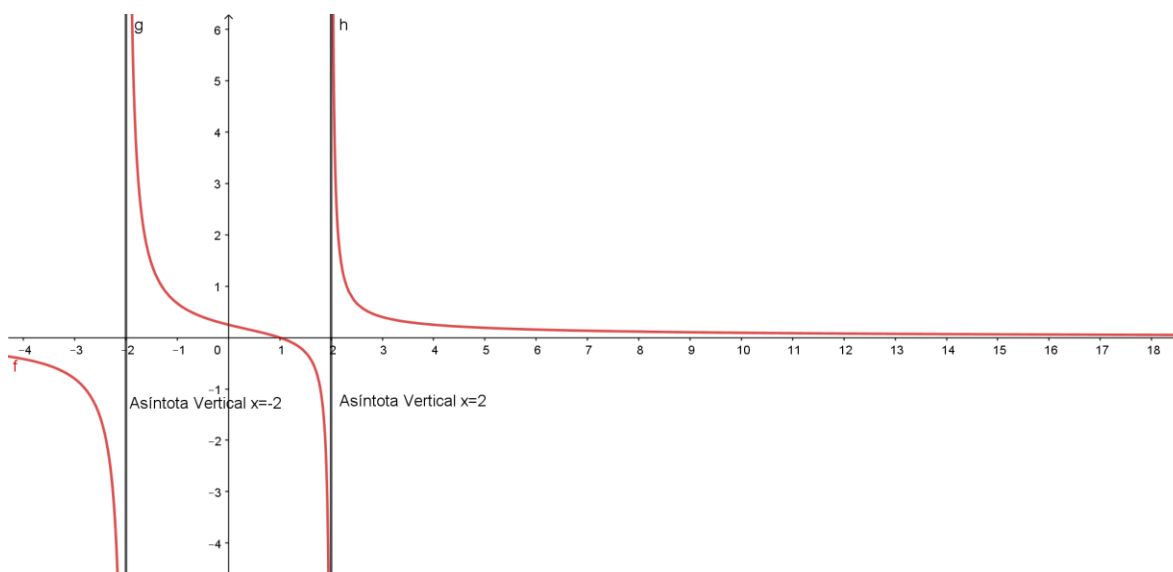
1º) Puntos Críticos (P.C).

$$f'(x) = -\frac{x^2 - 2x + 4}{(x^2 - 4)^2} = 0; x \neq \pm 2.$$

Como $x^2 - 2x + 4 > 0, \forall x \in \mathbb{R}$, entonces $f'(x) < 0$, lo que significa que $f(x) = \frac{x-1}{x^2-4}$ es Decreciente en \mathbb{R} . Por lo tanto, esta función no tiene máximo ni mínimo local.

Gráfica:





3) $f(x) = \frac{x^4 + 1}{x^4 - 1}$

Respuesta.

1°) Puntos Críticos (P.C).

$$f'(x) = -\frac{8x^3}{(x^4 - 1)^2} = 0 \Rightarrow \begin{cases} x = 0 \\ \vee \\ x = \pm 1 \end{cases}$$

Por lo tanto:

$$P.C = \{-1, 0, 1\}$$

2°) Recta Numérica.

$-\infty$	-2	-1	-1/2	0	1/2	1	2	$+\infty$
$f'(x) = -\frac{8x^3}{(x^4 - 1)^2}$ Positiva			Positiva		Negativa		Negativa	

de donde: $f(0) = -1$ es un Máximo Local.

Gráfica:



