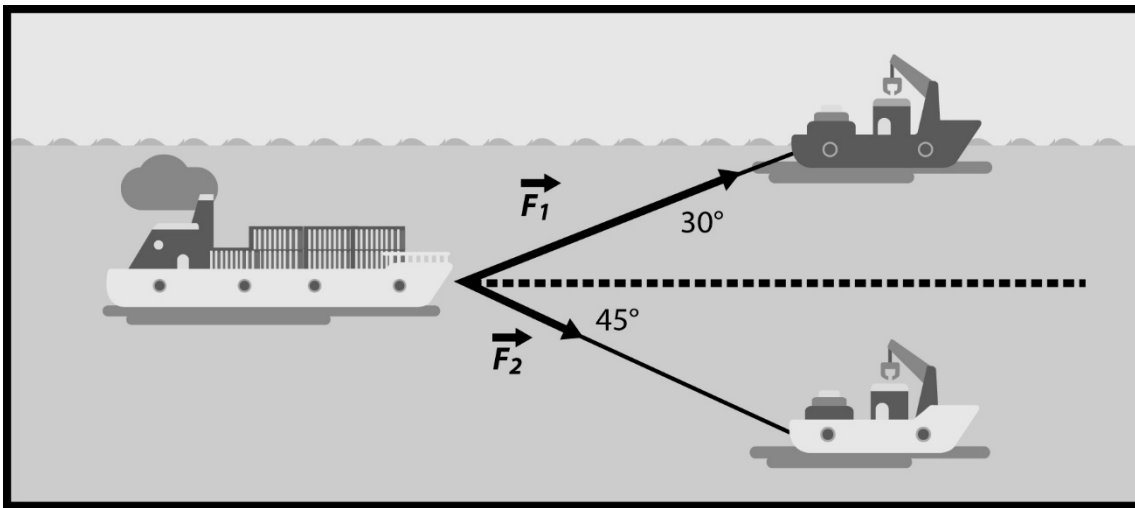


Ejercicios Resueltos: Productos Vectoriales

➤ Ejercicio 1



Dos remolcadores arrastran una barcaza, por agua tranquila. Uno tira con una fuerza $F_1 = 20[\text{kN}]$ con un ángulo de 30° respecto del eje de la barcaza, como se muestra en la figura. El segundo remolcador jala con una fuerza $F_2 = 15[\text{kN}]$ y un ángulo de 45° también respecto del eje del barco. Determine:

- Los vectores \vec{F}_1 y \vec{F}_2 en término de sus componentes canónicas.
- el ángulo que forman \vec{F}_1 con \vec{F}_2 , a partir de $\vec{F}_1 \cdot \vec{F}_2$

Solución:

- Los vectores pueden expresarse de la forma:

$$\vec{F}_1 = |\vec{F}_1| \cos 30^\circ \hat{i} + |\vec{F}_1| \sin 30^\circ \hat{j}$$

$$\vec{F}_1 = (17.3\hat{i} + 10.0\hat{j})[\text{kN}]$$

$$\vec{F}_2 = |\vec{F}_2| \cos 45^\circ \hat{i} - |\vec{F}_2| \sin 45^\circ \hat{j}$$

$$\vec{F}_2 = (10.6\hat{i} - 10.6\hat{j})[\text{kN}]$$

b) Se puede expresar el producto punto como:

$$\vec{F}_1 \cdot \vec{F}_2 = F_{1x} \cdot F_{2x} + F_{1y} \cdot F_{2y} = 17.3 \cdot 10.6 + 10.0 \cdot (-10.6) = 77.4$$

Además:

$$\vec{F}_1 \cdot \vec{F}_2 = |\vec{F}_1| \cdot |\vec{F}_2| \cos \phi$$

Entonces:

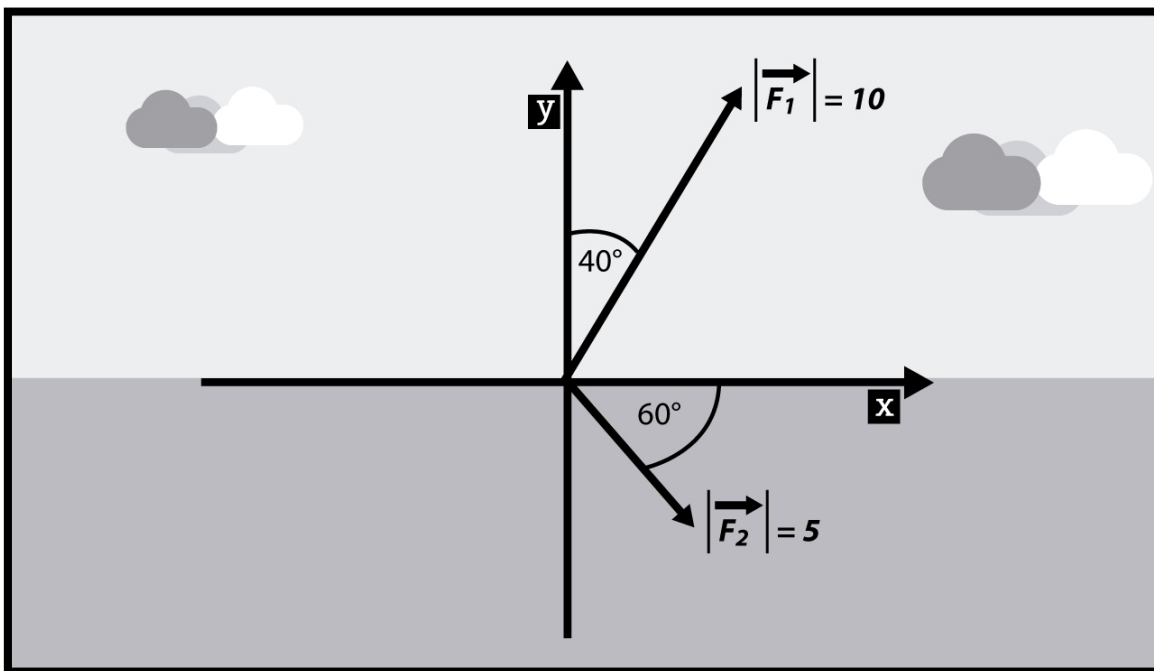
$$\vec{F}_1 \cdot \vec{F}_2 = 20 \cdot 15 \cdot \cos \phi = 77.4$$

$$\cos \phi = \frac{77.4}{20 \cdot 15}$$

$$\phi = \arccos\left(\frac{77.4}{20 \cdot 15}\right)$$

$$\phi = 75^\circ$$

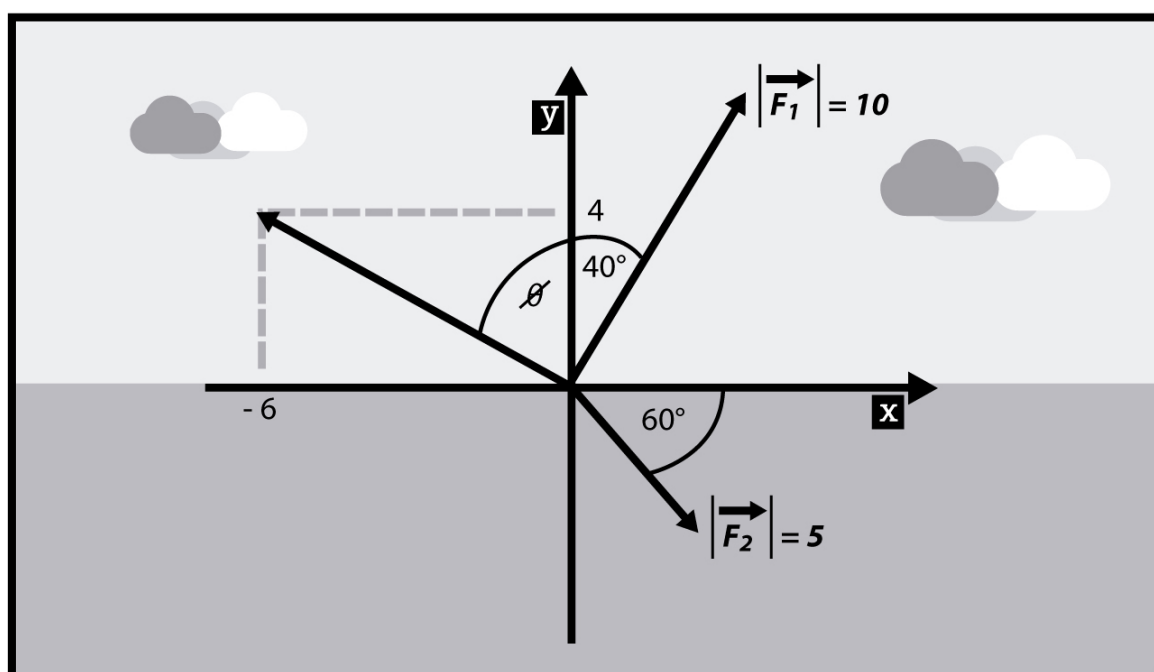
➤ Ejercicio 2



Considere los vectores \vec{F}_1 , \vec{F}_2 y \vec{F}_3 , donde el módulo de \vec{F}_1 es 10 y el módulo de \vec{F}_2 es 5, como se muestra en la figura. El vector \vec{F}_3 tiene su origen en el origen del sistema de coordenadas y su extremo en el punto $(-6, 4)$.

- Expresar cada uno de los vectores en componentes cartesianas
- Determinar el ángulo formado entre los vectores \vec{F}_1 y \vec{F}_3

Solución:



$$\begin{aligned} \vec{F}_1 &= 10 \sin 40^\circ \hat{i} + 10 \cos 40^\circ \hat{j} = 6,43 \hat{i} + 7,66 \hat{j} \\ \vec{F}_2 &= 5 \cos 60^\circ \hat{i} - 5 \sin 60^\circ \hat{j} = 2,5 \hat{i} - 4,33 \hat{j} \\ \vec{F}_3 &= -6 \hat{i} + 4 \hat{j} \end{aligned}$$

$$b) \vec{F}_1 \bullet \vec{F}_3 = (6,43)(-6) + (7,66)(4) = -7,94 = |\vec{F}_1||\vec{F}_3| \cos \alpha$$

$$\alpha = \arccos\left(\frac{-7,94}{10 \cdot \sqrt{6^2 + 4^2}}\right) = 96,3^\circ$$

Otro camino:

$$\phi = \arctan\left(\frac{6}{4}\right) = 56,3^\circ$$

$$\alpha = \phi + 40^\circ = 56,3^\circ + 40^\circ = 96,3^\circ$$

➤ Ejercicio 3

Dado los vectores $\vec{A} = 3\hat{i} - \hat{j} + 2\hat{k}$ y $\vec{B} = 2\hat{i} + 3\hat{j} - \hat{k}$, determine: a) $|\vec{A}|$, $|\vec{B}|$, $\vec{A} + \vec{B}$, $\vec{A} \cdot \vec{B}$; b) un vector \vec{C} tal que sea unitario y perpendicular a ambos.

Solución:

a) El módulo de los vectores se determina como:

$$|\vec{A}| = \sqrt{3^2 + (-1)^2 + 2^2}$$

$$|\vec{A}| = \sqrt{14} = 3.74$$

$$|\vec{B}| = \sqrt{2^2 + 3^2 + (-1)^2}$$

$$|\vec{B}| = \sqrt{14} = 3.74$$

Usando el método de las componentes, la suma de los vectores es:

$$\vec{A} + \vec{B} = (3+2)\hat{i} + (-1+3)\hat{j} + (2+(-1))\hat{k}$$

$$\vec{A} + \vec{B} = 5\hat{i} + 2\hat{j} + 1\hat{k}$$

$$\vec{A} \cdot \vec{B} = 3 \cdot 2 + (-1) \cdot 3 + 2(-1)$$

$$\vec{A} \cdot \vec{B} = 1$$



b)

$$\vec{A} \times \vec{B} = \begin{vmatrix} \hat{i} & \hat{j} & \hat{k} \\ 3 & -1 & 2 \\ 2 & 3 & -1 \end{vmatrix} = \hat{i}((-1) \cdot (-1) - 2 \cdot 3) - \hat{j}(3 \cdot (-1) - 2 \cdot 2) + \hat{k}(3 \cdot 3 - (-1) \cdot 2)$$

$$\vec{A} \times \vec{B} = -5\hat{i} + 7\hat{j} + 11\hat{k}$$

$$|\vec{A} \times \vec{B}| = \sqrt{(-5)^2 + 7^2 + 11^2}$$

$$|\vec{A} \times \vec{B}| = \sqrt{195} = 13.9$$

$$\vec{C} = \frac{-5\hat{i} + 7\hat{j} + 11\hat{k}}{\sqrt{195}}$$

